


Муниципальный этап Всероссийской олимпиады школьников

11.12.2023 г.

Сведения об участнике:

Фамилия Скопцова
Имя Татьяна
Отчество Ивановна
Класс обучения 9а
Образовательная организация МКОУ "СОШ 131"

Наименование предмета ОБМ
ФИО учителя предметника Дальнов Алексей Геннадьевич

Подпись участника 

ШИФР Участника: 9-02

*Шифр заполняет координатор ВСОШ

Тестовые задания

Определите один правильный ответ.
За правильный ответ начисляется 2 балла.

1. В каком случае допускается переходить проезжую часть между противоположными углами регулируемого перекрёстка (по диагонали)?

- + а) только при наличии разметки, обозначающей такой пешеходный переход
- б) только при наличии сигналов регулировщика, разрешающих такой переход
- в) только при наличии сигналов светофора разрешающий такой переход
- г) только при наличии хорошей видимости во все стороны перекрёстка

2.

+ а)



б)



в)



г)



Ы

3. Вы подошли к перекрёстку, где проводится движение по сигналам регулировщика. Укажите, какой сигнал показывает регулировщик, если он обращён к Вам грудью, а его руки опущены.

- а) внимание пешеходы
- б) движение запрещено
- в) навстречу транспорту движение запрещено
- + г) путь пешеходам закрыт

4. Какая защита существует от гамма - излучения?

- а) обычный лист бумаги, одежда
- б) каменные и деревянные стены, подвал каменного дома
- в) любое укрытие
- г) противорадиационное укрытие, глубокий овраг

5. От чего зависит доза излучения естественного радиационного фона, которой подвергается человек?

- + а) местность, в которой он живёт вода; которую он пьёт; материалы, из которых построен его дом
- б) частое посещение лесного и горного массива
- в) нахождение рядом с автострадами, железнодорожными мостами
- г) пища, которую он ест; а одежда, которую он носит; транспорт, в котором он ездит

6. Какие существуют виды ядерного оружия?

- + а) ядерное, термоядерное, нейтронное
- б) химическое, атомное, ядерно-импульсное
- в) вакуумное, объёмное, бинарное
- г) биологическое, ядерно-космическое, термобарическое

7. На каком безопасном расстоянии следует находиться при обнаружении бесхозного дорожного чемодана, во время ожидания сотрудников правоохранительных органов?

- а) 280 метров
- б) 230 метров
- в) 200 метров
- г) 350 метров

8. Какой из показателей по определению Всемирной организации здравоохранения является главным индикатором состояния здоровья населения?

- а) процент привитых людей
- + б) продолжительность жизни населения
- в) продолжительность трудовой деятельности
- г) частота простудных заболеваний в течение одного года

9. Какое опасное осложнение может возникнуть у пострадавшего при повреждении вен шеи и головы в первые минуты после травмы, если первая помощь не будет оказана своевременно?

- а) сепсис (заражение крови)
- б) инфицирование раны и воспаление
- + в) попадание воздуха в просвет сосуда (воздушная эмболия)
- г) анафилактический (аллергический) шок

10. Укажите признаки обморока.

- а) отсутствие сознания, отсутствие дыхания, отсутствие пульса на сонной артерии
- б) отсутствие сознания более 3-4 минут, наличие пульса на сонной артерии, наличие дыхания
- в) отсутствие сознания до 3-4 минут, наличие пульса на сонной артерии, наличие дыхания
- г) отсутствие сознания, отсутствие дыхания, отсутствие пульса на сонной артерии, помутнение роговицы глаза

Внимание! Определите все правильные ответы.
За каждый правильный ответ начисляется 2 балла.

11. Какие значения имеет сигнал «сочетание красного и жёлтого цвета» круглого светофора?
- а) запрещает движение
 - б) информирует о предстоящем включении зелёного сигнала
 - в) информирует о наличии нерегулируемого перекрёстка
 - + г) информирует о наличии нерегулируемого пешеходного перехода
 - д) отдаёт приоритет в движении велосипедам
12. Укажите место, которое Вы займёте в пустом салоне общественного транспорта в обстоятельствах позднего передвижения.
- + а) поближе к водителю (машинисту)
 - б) поближе к двери
 - в) рядом с кнопкой экстренной остановки
 - г) рядом с устройством громкой связи с машинистом
13. Что означает сигнал регулировщика «руки вытянуты в стороны или опущены» для пешеходов и транспортных средств, находящихся со стороны груди и спины регулировщика?
- а) движение всех транспортных средств запрещено
 - б) движение пешеходов запрещено
 - в) пешеходам разрешено переходить проезжую часть
 - г) транспортным средствам разрешено движение прямо и направо
14. Какие существуют виды ионизирующих излучений?
- а) ионизирующее, дельта
 - б) бета, нейтронное
 - в) рентгеновское, лучевое
 - г) электромагнитное, тепловое
 - + д) гамма, альфа
15. Из каких уровней состоит единая государственная система предупреждения и ликвидации чрезвычайных ситуаций (РСЧС)?
- + а) федеральный, региональный
 - б) субъектовый, органы повседневного управления
 - в) связи, оповещения, информационного обеспечения
 - г) территориальный, местный, объектовый
 - д) межведомственный, ведомственный, спасательный

16. Какие существуют режимы функционирования РСЧС?

- а) режим суточной готовности
- б) режим повседневной деятельности
- в) режим часовой готовности
- г) режим чрезвычайной ситуации
- д) режим постоянной готовности

17. Какие из перечисленных утверждений верны?

- а) переутомление – естественное следствие любой работы
- б) переутомление исчезает после сна
- в) переутомление не исчезает после сна и кратковременного отдыха
- + г) переутомление приводит к снижению сопротивляемости организма к различным неблагоприятным факторам
- д) переутомление исчезает после кратковременного отдыха

18. Никотин относится к опасным растительным ядам. Укажите, какие из нижеперечисленных утверждений относительно влияния никотина на организм человека являются верными.

- 7 а) в больших дозах тормозит деятельность центральной нервной системы
- б) вызывает кислородное голодание организма, вследствие образования карбоксигемоглобина
- 8 в) является канцерогеном
- + г) вызывает спазм (сужение) сосудов
- д) тормозит восприятие действительности

19. Наличие каких признаков позволяет утверждать, что кровоостанавливающий жгут на конечность наложен правильно?

- а) посинение кожи конечности ниже наложенного жгута
- + б) побледнение конечности ниже наложенного жгута
- в) отёк конечности ниже наложенного жгута
- + г) отсутствие пульса на артерии ниже наложенного жгута
- д) порозовение кожи ниже наложенного жгута

20. Укажите ранние признаки биологической смерти.

- а) трупное окоченение
- б) трупные пятна
- 0 в) помутнение роговицы
- г) деформация зрачка при давлении на глазное яблоко (признак «кошачьего глаза»)
- д) отсутствие пульса

Теоретические задания

1. Вы живёте на девятом этаже. Поставив разогревать суп на электрической плите, Вы пошли выносить мусор, и вдруг входная дверь захлопнулась от порыва ветра. У Вас нет ключа и телефона. Сформулируйте Ваши действия исходя из сложившейся ситуации.

2. Отравления - заболевания, развивающиеся вследствие экзогенного воздействия на организм человека химических соединений в количествах, вызывающих нарушение физиологических функций.




Решающее значение при выборе тактики действий для оказания первой помощи при отравлениях имеет путь поступления токсичного вещества в организм человека.






А. Опишите мероприятия первой помощи при пероральных (токсическое вещество поступает через рот) отравлениях.

Б. Укажите, в каких случаях проведение отдельных приёмов первой помощи, выполняемых при пероральных отравлениях, запрещено.

3. В случае необходимости туристы могут подать международные сигналы бедствия, в том числе нанесением их изображений на поверхности большой площади. Укажите стрелками соответствие между изображениями и названиями сигналов бедствия.

6.

			
-	LL		
+	F		
+			
+			

	Следую в этом направлении
	Требуется карта и компас
	Нужны пища и вода
	Всё в порядке
	Нужен врач, серьёзная травма